



15

Die **Krallenotter** haben

lange Krallen

Fingernägel

kurze Krallen

A

O

U



16



Gibbons fressen

Kiwis

Bananen

Feigen

E

A

N

17

Die Stimmung von **Palmkakadus** erkennt man an der

gestäubten Federhaube

Farbe der Wangen

Stellung des Schwanzes

G

D

N



Forschungsreise durch den Regenwald



1

Bambus ist ein unverzweigtes Gras **R**

Der Bambusbaum hat Äste **A**



2



Wie heißt die Taube?

Weißer Fruchtttaube **N**

Zweifarb-Fruchtttaube **O**

Dreifarb-Fruchtttaube **F**

3

Spitzkopfschildkröten leben

im Wasser **D**

im Sand **K**

auf der Erde **G**



4




Männliche **Doppelhornvögel** haben eine rote Iris, weibliche eine weiße. Im Tropenhaus leben

nur Männchen **O**

nur Weibchen **U**

Männchen und Weibchen **R**

Iris



Pupille

1

L Ö S U N G

□ □ □ □ □ □ □ □ □ - □ □ □ □ □ □ □ □ □

Dieses Tier kannst Du im Hippodrom beobachten.



Welches Tier gibt es wirklich im Regenwald?

Achat-Schnecke

Saphir-Schnecke

Ametist-Schnecke

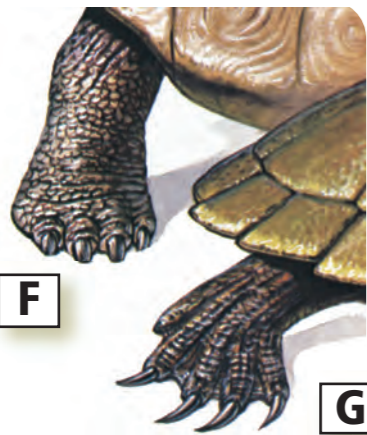
I

B

C



5



F

G

Welcher Fuß gehört zur **Spitzkopfschildkröte**?

6

Der **Kleinkantschil** lebt beim

Gibbon

Doppelhornvogel

Kurzkrallenotter

E

U

I



7



Wie heißt dieser Fisch?

Riesengurami

Fransenlipper

Haiwels

E

D

J

8

Wie heißt ein großer Vogel im Regenwald?

Kronenhuhn

Kronfasan


Krontaube

M

V

Z

9



Die Antworten auf die Fragen dieser Seite findest du im Inforaum des Tropenhauses

10

Wozu benutzen **Wilderer** diese Plastikrohre?

als Dschungeltoilette

um Papageien zu schmuggeln

als Falle für Krallenotter

M

F

D



11

CITES ist eine Abkürzung und steht für ...

ein Naturschutzabkommen, das den internationalen Handel mit wild lebenden Tieren und Pflanzen reguliert

eine Behörde, die die Naturschutzgebiete in Südostasien kontrolliert

ist die internationale Organisation zum Schutz der asiatischen Elefanten

L

W

O



12

Das Horn eines **Nashorns** besteht aus

Elfenbein

Knochen

zusammen gewachsenen Haaren

A

E

U



13

Das **Matschie** ist

eine Baumratte

ein Baumkänguru

ein Baumarder

L

G

N

14

Welches Bild zeigt die Pfote eines **Matschies**?

H

B

W

